

Unidad Educativa Privada  
C.I.A.L. Fundada en 1973.

Docente Especialista = Mirna Barrientos.

Fecha: Semana del 18-5 al 22-5-2020

Grado: 4º - 2º







Objetivo = A través de actividades lúdicas,  
desarrollar y estimular la creati-  
vidad y el pensamiento lógico.

### Actividad 1 -


Dibuya tantos elementos como te indica el nú-  
mero -

5 =  9 =   
12 =  24 =

Colorea tantos cuadros como te indica el  
número.



Sigue el camino y completa las operaciones.



### Actividad 2.

Ponle carita a los números -



3

1

4

0

Piensa y sobre todo  
diviértete

Unidad Educativa Privada  
C.I.A.L. Fundada en 1973.

Docente Especialista - Nuria Barrientos

Fecha - Semana del 18-5 al 23-5-2020.

Grado - 3º - 4º

Objetivo: A través de juegos lúdicos, ejercitar  
& desarrollar el ingenio, el razo-  
namiento

Actividad 1.

Completa la ruta y resuelve las operaciones...

Three hand-drawn math paths for a game. Each path starts with a die icon and ends with an 'X' icon. The paths contain various arithmetic operations and numbers:

- Path 1:  $7 + 5$ ,  $- 6$ ,  $\times 2$
- Path 2:  $\times 5$ ,  $9$ ,  $-$ ,  $14$ ,  $+$ ,  $3$
- Path 3:  $30$ ,  $+$ ,  $37$ ,  $-$ ,  $56$ ,  $\times$ ,  $4$

Pienso un poco, si tienes 62 \$ y la  
quieres prestar 16 \$ a Luis. ¿Cuántos  
\$ tienes?

R: \_\_\_\_\_

Si la gallina roja puso 8 huevos, la  
gallina negra puso 6 huevos, la blanca  
puso 7 huevos y el gallo puso 5 huevos  
¿Cuántos huevos tienes en total?

R: \_\_\_\_\_

Actividad 2 -

Completa la figura. Debe quedar una  
imagen completa. Colorea.

Racimo de  
uvas.



Unidad Educativa Privada  
C.I.A.L. Fundada en 1973.

Docente Especialista: Mirna Barrientos  
Fecha: Semana del 18-5 al 22-5-2020.  
Grado: 5° - 6°.

Objetivo: A través de actividades lúdicas ejercitar y reforzar conceptos.

### Actividad 1 -

Fíjate lo que te preguntan. Piensa bien...  
¿Qué cantidad tiene dos cero y dos cuatros?

- A = 0044.
- B = 2024.
- C = 2044.
- D = 0024.

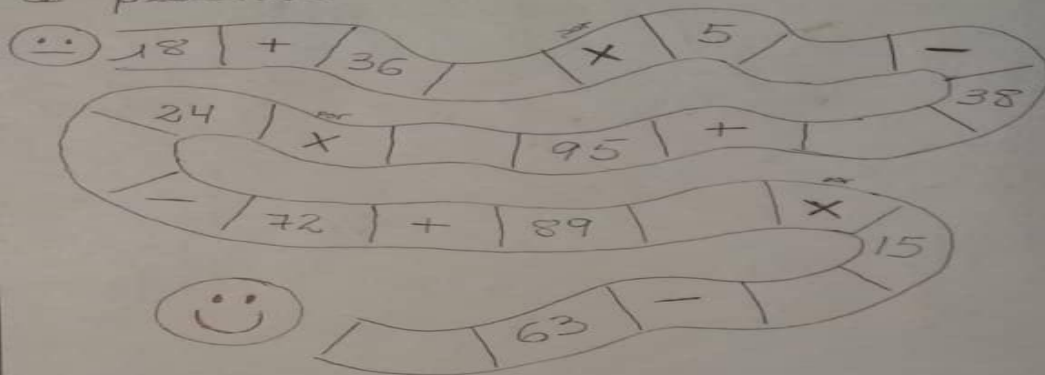
marca la opción que para ti es la correcta

Si un pato pone un huevo en la frontera entre Colombia y Venezuela. ¿A qué país pertenece el huevo? - Razonala

R = \_\_\_\_\_

### Actividad 2 -

Sigue el camino y resuelve lo que se te pide.....



\* Completa la figura. ---->

