

Docente: Mirna Barrientos- Especialista

Semana: 26/04/2021 al 30/04/2021


### PLAN DE ACCIÓN PEDAGÓGICO

**Grados: 1ero-2do-3ro**

**Propósito:** Ejecuto y aprendo

**Acciones pedagógicas**

- Actividad 1



Juguemos con los números, resolver y comprobar, te doy una fórmula para comprobar, si es una suma se resta y si es una resta se suma.

Com:  
$$\begin{array}{r} 324 + \\ 253 \\ \hline 577 \end{array} \quad - \quad \begin{array}{r} 685 - \\ 432 \\ \hline 253 \end{array}$$
  
$$\begin{array}{r} 577 \\ - 253 \\ \hline 324 \end{array} \quad + \quad \begin{array}{r} 253 \\ + 432 \\ \hline 685 \end{array}$$

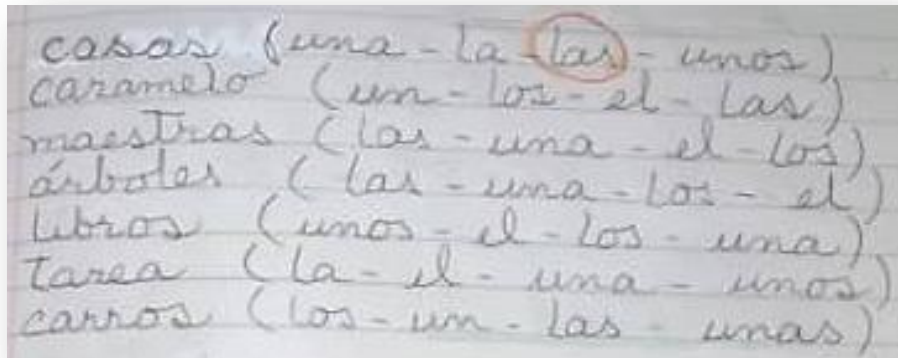
Ahora te toca a ti, resuelve y comprueba:

$$\begin{array}{r} 24 + \\ 12 \\ \hline \end{array} \quad \begin{array}{r} 57 + \\ 42 \\ \hline \end{array} \quad \begin{array}{r} 93 + \\ 35 \\ \hline \end{array} \quad \begin{array}{r} 384 + \\ 215 \\ \hline \end{array} \quad \begin{array}{r} 971 + \\ 427 \\ \hline \end{array}$$

$$\begin{array}{r} 84 - \\ 43 \\ \hline \end{array} \quad \begin{array}{r} 712 - \\ 402 \\ \hline \end{array} \quad \begin{array}{r} 946 - \\ 524 \\ \hline \end{array} \quad \begin{array}{r} 4897 - \\ 1523 \\ \hline \end{array}$$

- Actividad 2

Señala o marca el artículo que corresponda según sea el caso:



- Actividad 3

Reto, reto, describe a tu mamá con todos sus detalles, 1er grado (dibujo), 2do y 3ero (escribir cinco líneas).



¡Suerte !

**Grados: 4to-5to-6to**

**Objetivo:** Ejecuto y aprendo


**Acciones pedagógicas**

- Actividad 1

¿Cuál es el m.c.m (mínimo común múltiplo) de?

12-42-36-84-120



- Actividad 2



- **Actividad 3**

**Reto- reto- reto-**

**Miguel mira a Pedro  
Ramón mira a Benito  
Jordi y Benito miran a Miguel  
Pedro y Narciso se miran**



**¿Quién es quién?**

**¡Éxitos!**